

C

प्रश्नपत्रिका अनुक्रमांक

330001

महाएकझाम

पूर्व उच्च प्राथमिक शिष्यवृत्ती सराव परीक्षा - २०१७

माध्यम : मराठी

विषय : तृतीय भाषा व बुद्धिमत्ता चाचणी

दिनांक : ०५/०२/२०१७

वेळ : १.३० तास

इयत्ता : ५ वी

एकुण गुण : १५०

सूचना :

- (१) या प्रश्नपत्रिकेत दोन विभाग आहेत. विभाग - १ मध्ये प्रत्येकी दोन गुणांचे २५ प्रश्न तृतीय भाषा या विषयाचे असून, विभाग - २ मध्ये प्रत्येकी दोन गुणांचे ५० प्रश्न बुद्धिमत्ता चाचणी या विषयाचे आहेत.
- (२) या प्रश्नपत्रिकेत प्रत्येकी २ गुणांचे ७५ प्रश्न आहेत.
- (३) सर्व प्रश्न सोडवणे आवश्यक आहे.
- (४) प्रश्नपत्रिकेत प्रत्येक प्रश्नास चार पर्यायी उत्तरे दिलेली आहेत. त्यांतील बरोबर पर्यायी उत्तराचा क्रमांक असलेले वर्तुळ उत्तरपत्रिकेत काळ्या किंवा निळ्या बॉलपेननेच पूर्ण रंगवावे.
उदा. : प्रश्न क्र. ६ च्या बरोबर उत्तराचा पर्याय - क्रमांक २ असेल, तर तो खालीलप्रमाणे रंगवावा.
प्रश्न क्र. ६ ① ● ③ ④
- (५) पुढीलप्रमाणे रंगविलेले उत्तर ग्राह्य धरण्यात येणार नाही. असे उत्तर लिहिल्यास शून्य गुण दिले जातील.
① ② ● ④
- (६) पर्यायाची उत्तरे रंगवतांना काळ्या किंवा निळ्या शाईच्या बॉलपेनचाच वापर करावा. पेन्सिलीने रंगविलेली उत्तरे ग्राह्य धरण्यात येणार नाहीत.
- (७) एकदा रंगविलेली उत्तरे बदलता येणार नाहीत.
- (८) एकापेक्षा अधिक वर्तुळांत रंगविलेली उत्तरे, तसेच खाडाखोड करून रंगविलेली उत्तरे ग्राह्य धरण्यात येणार नाहीत.
- (९) परीक्षेस मर्यादित वेळ असल्याने एखाद्या प्रश्नाचे उत्तर तुम्हाला येत नसल्यास, त्याच्या पुढील प्रश्न सोडवावेत. किंवा शेवटी वेळ शिल्लक राहिल्यास, न सोडवलेल्या प्रश्नांसाठी पुन्हा प्रयत्न करावा.

विषय : तृतीय भाषा व बुद्धिमत्ता चाचणी

वेळ : दुपारी ०१.३० ते दुपारी : ०३.००

सराव पेपर

विभाग 1 : तृतीय भाषा

Q.1 Write down the name of animal by rearranging the letters.

| I G E T R |

- 1) TEGIR 2) GRITE 3) TIGER 4) EGTRI

Q.2 Fill in the blanks.

He _____ angry with you.

- 1) doesn't 2) do'esnt 3) doesn't' 4) doesn't

Q.3 Put the word in alphabetical order and which word will be in the middle position.

Boss, Bat, Bench, Butterfly, Bingo


- 1) Bench 2) Bat 3) Boss 4) Bingo

Q.4 Choose the correct word for the picture.



- 1) Ear 2) Eye 3) Neck 4) Jaw

Q.5 Write the young one of the given bird.



- 1) Bird 2) Duckling 3) Hen 4) Chick

Q.6 Choose the correct alternative.

If seal : swim then worm

- 1) walk 2) swing 3) wiggle 4) crawl

Q.7 Choose the correct alternative to complete the following sentence.

He always the stories.

- 1) ried 2) read 3) reed 4) red

Q.8 Select the correct punctuation mark for given sentence.

They work together

- 1) ? 2) ! 3) . 4) ,

Q.9 Where should we put comma in the given sentence? They buy flowers fruits and honey.

- 1) They buy, flowers fruits, and honey. 2) They buy flowers fruits, and honey.
3) They buy flowers, fruits and honey. 4) They, buy flowsr, fruits and honey

Q.10 Put the proper marks in the given sentences.

It s 4 O clock.

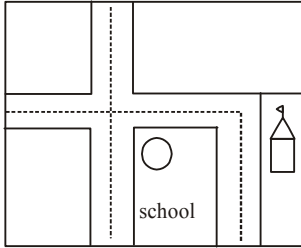
- 1) Question mark 2) Apostrophe 3) Comma 4) Exclamatory mark

Q.11 What does the sign means?



- 1) Turn right. 2) Go straight. 3) Go right. 4) Turn left.


Q.12 Look at the map and answer the question.



The temple is on which direction in the map?

- 1) South 2) East 3) North 4) West

Q.13 What time will be after 20 minutes?




- 1) 2 O'clock 2) 3 O'clock 3) 5 O'clock 4) 4 O'clock

Q.14 Read the situation and decide what would you do? Choose the correct alternative.

Situation - One of your friend is very clever but he always come to school late so a teacher always punishes him.

- 1) Tell him came late to school. 2) Ask him reason and find out solution.
3) Tell him don't come in school. 4) Tell him call his parents.

Q.15 Look at the moto about water and choose the correct answer.




_____ is our life.

- 1) Water 2) Trees 3) Meal 4) Money

Q.16 I am white outside and yellow inside, who am I? Solve riddle given below.

- 1) Potato 2) Coconut 3) Egg 4) Watermelon

Q.17 Select action by observing the picture.



- 1) Singing 2) Crying 3) Angry 4) Upset

Q.18 Read the situation and choose the correct greet.

My son won 1'st prize in the drawing competition, when he returned at home. I wished him _____

- 1) Good Morning 2) Congratulations 3) all the best 4) Have a nice day

Q.19 Select the correct option for seeking permission.

Gaurav want to go to see movie

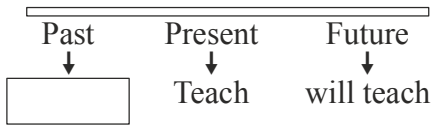
- 1) Can I go to see movie ? 2) Do I go to see movie ?
3) Am I go to see movie ? 4) Shall I go to see movie ?

Q.20 Use the correct word in the blank.

I am _____ proud of you.

- 1) much 2) very 3) so 3) fully

Q.21 What will you write in the following time line.



- 1) Teach 2) Tought 3) Taught 4) Teaching

Q.22 Choose the wrong pair from the following.

- 1) Ball - Balls 2) Grape - Grapes 3) Chair - Chairs 4) Man- Man's

Q.23 to Q.25 : Read to Prase.

Anushka is a very clever girl. She participated in drawing competition. She had a subject, how to stop pollution. She won the 1st prize in that competition.

Read the passage carefully and give answers given below)

Q.23 In which competition Anushka won the prize?

- 1) Swimming 2) Sport 3) Drawing 4) Football

Q.24 Which Prize Anushka won?

- 1) 4th 2) 1st 3) 3rd 4) 2nd

Q.25 What is the subject of drawing competition?

- 1) Save Water 2) Save Tree 3) Stop Pollution 4) Stop Spitting

प्र.33 गटात न बसणाऱ्या संख्येचा योग्य पर्याय निवडा.

- 1) 20 2) 37 3) 45 4) 50

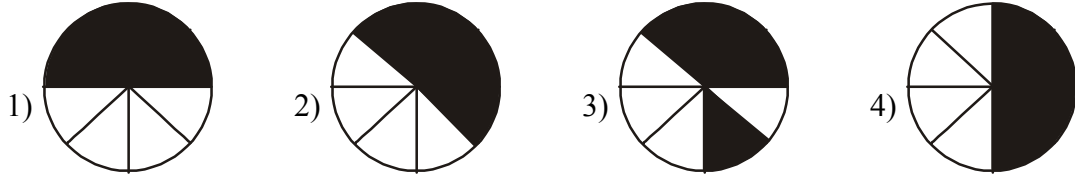
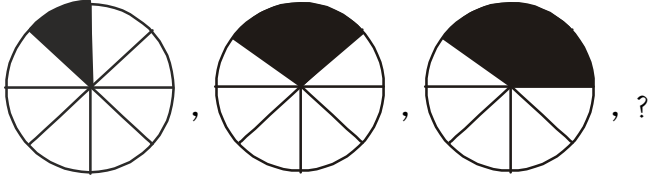
प्र.34 गटात न बसणाऱ्या संख्येचा योग्य पर्याय निवडा.

- 1) 7359 2) 5897 3) 9785 4) 8579

प्र.35 पुढील संख्यामालेतील क्रम ओळखा व प्रश्नचिन्हांच्या ठिकाणी येणारी संख्या पर्यायातून निवडा.
4, 9, 14, 19, 24, 29, ?

- 1) 32 2) 34 3) 36 4) 39

प्र.36 खालील आकृत्यांच्या मालिकेत प्रश्नचिन्हाच्या ठिकाणी येणाऱ्या आकृतीचा पर्याय निवडा.



प्र.37 खालील चिन्हांच्या मालिकेत प्रश्नचिन्हांच्या जागी कोणते चिन्ह येईल?

$+\square \circ \times \triangle + \square \circ ? \triangle + \square ? \times \triangle + ? \circ \times \triangle$

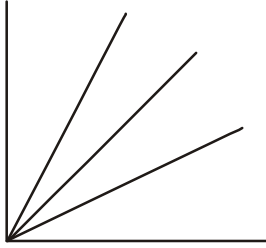
- 1) $\times \square \circ$ 2) $\times + \square$ 3) $\times \circ \square$ 4) $\times \triangle \square$

प्र.38 खालील प्रश्नातील चुकीचे पद पर्यायातून निवडा.

1, 3, 8, 18, 35, 60, 98

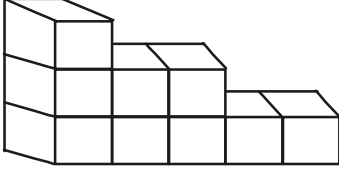
- 1) 60 2) 18 3) 35 4) 98

- प्र.३९ पुढील संख्यामाला क्रमात एक चुकीचे पद आहे, ते पर्यायातून निवडा.
1, 4, 10, 16, 25, 36
1) 10 2) 25 3) 36 4) 16
- प्र.४० सविता कविताइतकी उंच नाही; पण सुवर्णापेक्षा उंच आहे. बबिता कवितापेक्षा उंच आहे तर सर्वात उंच कोण?
1) कविता 2) सविता 3) सुवर्णा 4) बबिता
- प्र.४१ डोळ्याला कान म्हटले, कानाला त्वचा म्हटले, त्वचेला जीभ म्हटले व जिभेला नाक म्हटले तर आपणास स्पर्शज्ञान कशाने होईल?
1) त्वचा 2) कान 3) नाक 4) जीभ
- प्र.४२ सहा वर्षांपूर्वी सीमाचे वय 5 वर्षे होते तर सहा वर्षांनंतर सीमाचे वय किती?
1) 17 2) 11 3) 12 4) 10
- प्र.४३ फोटोतील व्यक्तीकडे बोट करून रिया म्हणाली, “हे माझ्या आईच्या बहिणीच्या मुलाचे मामा आहेत तर फोटोतील व्यक्तीचे व रियाचे नाते कोणते?”
1) मामा-पुतणी 2) काका-पुतणी 3) मामा-भाची 4) आजोबा-नात
- प्र.४४ पुढील आकृतीत कोनांची संख्या किती?



- 1) 4 2) 6 3) 7 4) 10

प्र.४५ पुढील आकृतीत घनाकृती किती ठोकळे आहेत ?



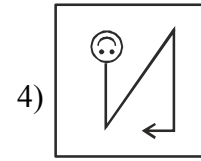
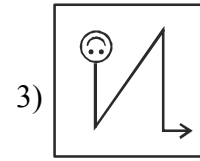
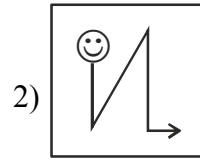
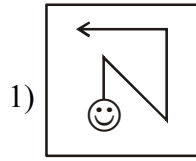
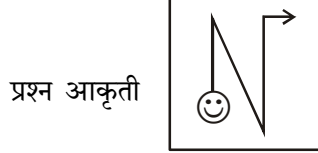
1) 8

2) 9

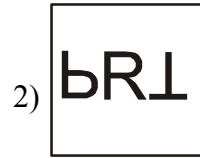

3) 7

4) 18

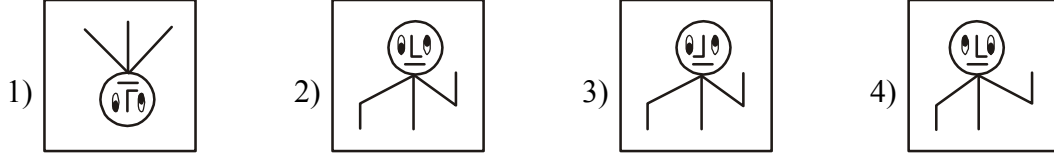
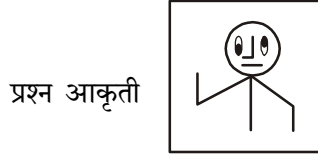
प्र.४६ दिलेल्या आकृतीचे पाण्यातील प्रतिबिंब पर्यायातून निवडा ?



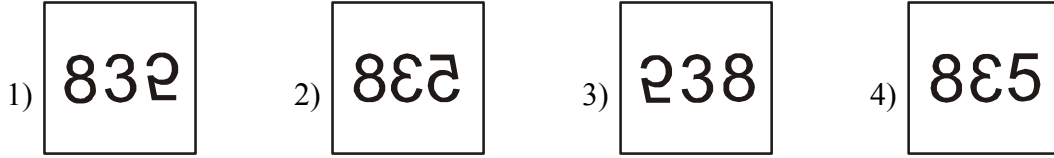
प्र.४७ दिलेल्या आकृतीचे पाण्यातील प्रतिबिंब पर्यायातून निवडा ?



प्र.48 दिलेल्या प्रश्नआकृतीची आरशातील प्रतिमा पर्यायातून शोधा.



प्र.49 दिलेल्या प्रश्नआकृतीची आरशातील प्रतिमा पर्यायातून शोधा.



प्र.50 पहिल्या पदाचा दुसऱ्या पदाशी तसा संबंध आहे तसाच संबंध तिसऱ्या पदाचा चौथ्या पदाशी आहे तो शोधा?
कोंबडी : खुराडे :: घोडा : ?

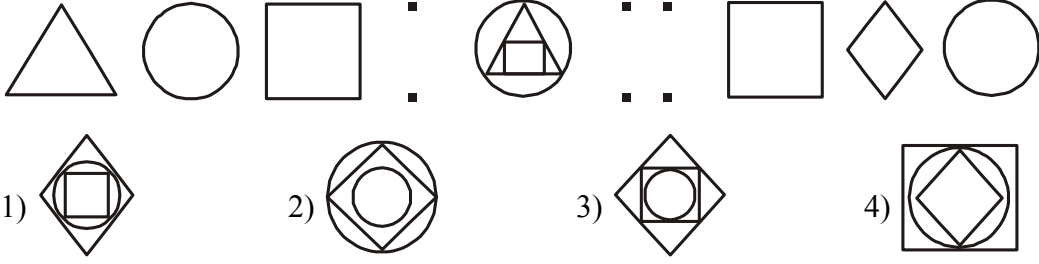
- 1) गोठा 2) तबेला 3) गुहा 4) पिलखाना

प्र.51 पहिल्या पदाचा संबंध दुसऱ्या पदाशी आहे तसाच संबंध तिसऱ्या पदाचा चौथ्या पदाशी आहे. प्रश्नाच्या उत्तरासाठी योग्य पर्याय निवडा.

रायगड : रायगड :: शिवनेरी ?

- 1) सातारा 2) अहमदनगर 3) पुणे 4) नाशिक

प्र.52 पहिल्या पदाचा संबंध दुसऱ्या पदाशी आहे तसाच संबंध तिसऱ्या पदाचा चौथ्या पदाशी आहे. प्रश्नाच्या उत्तरासाठी योग्य पर्याय निवडा.



प्र.53 समसंबंध प्रश्नाच्या उत्तरासाठी योग्य पर्याय निवडा.

$$31 : 41 :: 53 : ?$$

1) 64

2) 67

3) 61

4) 59

प्र.54 पहिल्या पदाचा संबंध दुसऱ्या पदाशी आहे. तसाच संबंध तिसऱ्या पदाचा चौथ्या पदाशी आहे. प्रश्नाच्या उत्तरासाठी योग्य पर्याय निवडा

$$9 : 82 :: 6 : ?$$

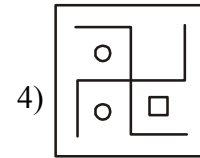
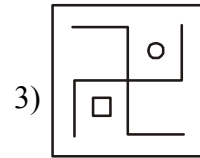
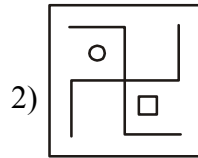
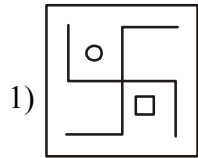
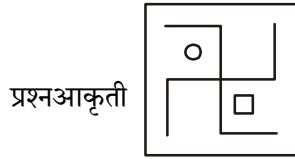
1) 35

2) 54

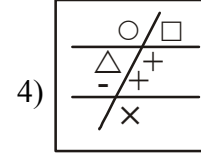
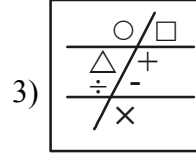
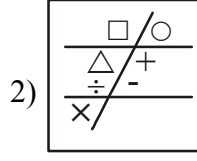
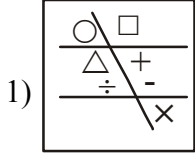
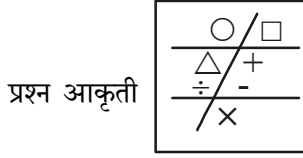
3) 37

4) 53

प्र.55 प्रश्नआकृतीशी तंतोतंत जुळणारी आकृती पर्यायातून शोधा.



प्र.56 प्रश्नआकृतीशी तंतोतंत जुळणारी आकृती पर्यायातून शोधा.



प्र.57 सीमाचा रांगेत डावीकडून 23 वा व उजवीकडून 17 वा क्रमांक आहे. याच रांगेत मध्यभागी असणाऱ्या सलमाचा क्रमांक कितवा ?

1) 20

2) 19

3) 39

4) 21

प्र.58 भिंतीवर रांगेत वाघ, सिंह, हत्ती, उंट, घोडा व गाय यांची क्रमाने 73 चित्रे लावली आहेत, तर 44 व्या क्रमांकावर कोणत्या प्राण्याचे चित्र असेल ?

1) वाघ

2) हत्ती

3) घोडा

4) सिंह

प्र.59 मावळता सूर्य पाहणारी अपूर्वा डावीकडे काटकोनात तीनवेळा वळली तर तिच्या उजव्या हाताची दिशा कोणती ?

1) पश्चिम

2) पूर्व

3) उत्तर

4) दक्षिण

प्र.60 समीर घरातून निघाला तेव्हा त्याचे तोंड दक्षिणेला होते. सहा पावले चालून तो डावीकडे काटकोनात वळला नंतर दहा पावले चालून तो उजवीकडे काटकोनात वळला, तेव्हा त्याच्यासमोर मंदिराचा दरवाजा होता, तर मंदिराचा दरवाजा कोणत्या दिशेला आहे ?

1) दक्षिण

2) उत्तर

3) पूर्व

4) पश्चिम

प्र.61 12 मे 2016 ला बुधवार होता तर त्याच वर्षातील स्वातंत्र्यदिन कोणत्या वारी असेल ?

1) शनिवार

2) सोमवार

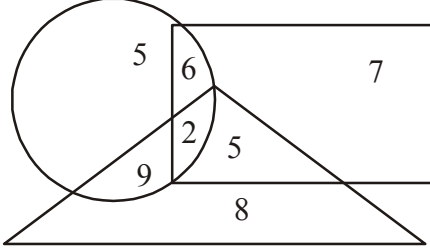
3) रविवार

4) मंगळवार

प्र.62 3 ऑगस्टला मंगळवार आहे, तर त्या महिन्यात पाच वेळा आलेले वार कोणते?

- 1) सोमवार, मंगळवार
- 2) रविवार, सोमवार, मंगळवार
- 3) रविवार, सोमवार
- 4) सोमवार, मंगळवार, बुधवार

प्र.63 पुढील वेनआकृतीचे निरीक्षण करा व प्रश्नांची उत्तरे लिहा. फक्त एकाच आकृतीत असणाऱ्या अंकांची बेरीज किती?



- 1) 20
- 2) 15
- 3) 13
- 4) 26

प्र.64 प्रश्नचिन्हाच्या ठिकाणी येणारी संख्या पर्यायातून शोधा.

| | | |
|---|----|----|
| 4 | 16 | 8 |
| 3 | 9 | 6 |
| 7 | ? | 14 |

- 1) 49
- 2) 26
- 3) 32
- 4) 24

प्र.65 पुढील गटाशी जुळणारे पद पर्यायातून निवडा.

वात, वायू, वारा

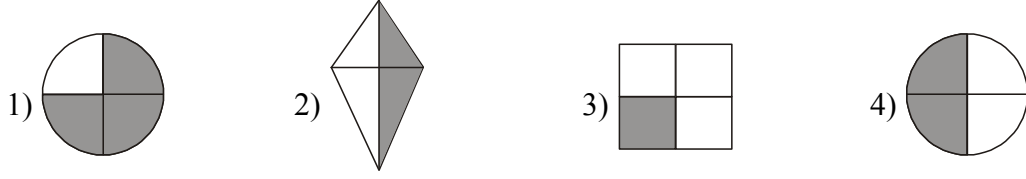
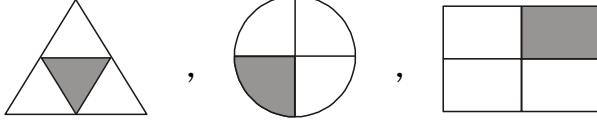
- 1) ढग
- 2) जलद
- 3) पवन
- 4) नीर

प्र.66 पुढील गटाशी जुळणारे पद पर्यायातून शोधा.


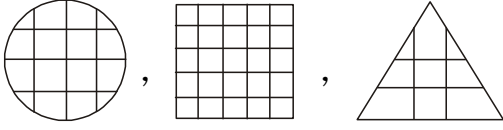
कागद, तुटकापेन, फाटलेला पुढा

- 1) शिळे अन्न
- 2) फुटका कप
- 3) केळीच्या साली
- 4) खरकटे

प्र.67 गटाशी जुळणारी आकृती पर्यायातून शोधा.



प्र.68 पुढील गटाशी जुळणारी आकृती पर्यायातून निवडा.



प्र.69 पुढील संख्या गटाशी जुळणारे पद पर्यायातून शोधा.

$$\frac{18}{9}, \frac{34}{17}, \frac{46}{23}$$

1) $\frac{24}{13}$

2) $\frac{38}{18}$

3) $\frac{16}{10}$

4) $\frac{42}{21}$

प्र.70 एका सांकेतिक भाषेत 24 = 2164, 31 = 361, 52 = 5202 तर याच भाषेत 33 = ?

1) 393

2) 3213

3) 3183

4) 3273

प्र.71 एका सांकेतिक भाषेत 'परराष्ट्र' हा शब्द 9356 व 'महाकाय' हा शब्द 4872 असा लिहितात, तर 'महाराष्ट्र' हा शब्द कसा लिहाल?

- 1) 4856 2) 4893 3) 5648 4) 4872

प्र.72 पुढील अक्षरांसाठी असणारे चिन्ह पाहून प्रश्नांची उत्तरे द्या?

| | | | | | | | | |
|---|---|---|---|---|---|------|--------|----------|
| न | र | व | क | द | स | काना | मात्रा | अनुस्वार |
| △ | ⊙ | + | × | ÷ | ★ | | = | ● |

'करवंद' हा शब्द कसा लिहाल?

- 1) $\times \odot + \div$ 2) $\times \odot \bullet + \div$ 3) $\times \odot + \bullet = \div$ 4) $\times \odot + \bullet \div$

प्र.73 $\star \div \square \div \circ$ या चिन्हांतून कोणती संख्या तयार होते?

| | | | | | | |
|---|---|---|---|---|---|---|
| □ | △ | ★ | + | ÷ | ○ | ⊗ |
| 5 | 7 | 8 | 3 | 2 | 1 | 6 |

- 1) 8251 2) 82351 3) 82521 4) 82571

प्र.74 घरातील सगळेजण जेवत असताना दारावरची बेल वाजली?

- 1) स्वतः उठून दरवाजा उघडेन 2) बेल ऐकूनही दुर्लक्ष करीन
3) मान खाली घालून जेवेन 4) आईला दरवाजा उघडण्यास सांगेन

प्र.75 घराच्या परिसरात डेंगू आजाराने अनेकजण आजारी आहेत?

- 1) घराची दारे, खिडक्या सतत बंद करून ठेवीन.
2) परिसरात विविध ठिकाणी साचलेल्या पाण्याचा निचरा करेन.
3) घरात मच्छर अगरबत्ती लावेन.
4) आजारी लोकांकडे दुर्लक्ष करेन.

